














### 3. SINIF DENEME SINAVI 7

Name:




- Aşağıda verilen bilgilerden hangisi yanlıştır?  
A  "Portakal" kelimesinde sekiz harf vardır.  
B  Alfabemizin 21. harfi "Y"dır  
C  Alfabemizin 15. harfinden sonra "n" harfi gelir.
- Afabemizedeki ünlü harf sayısı ünsüz harf sayısından kaç eksiktir?  
A  15  
B  14  
C  13
- Aşağıdaki kelimelerden hangisinin bütün ünlülerini incezi?  
A  felaket  
B  bilgelik  
C  atıştırılmak
- Aşağıdakilerden hangisinin içinde hem ince hem kalın ünlü vardır?  
A  pirasa  
B  zıyva  
C  domates
- Aşağıdaki cümlelerin hangisinde dört harfli ve tek heceli bir kelime vardır?  
A  Şule, çiçekleri suladı.  
B  Ali, uyumadan önce kitap okudu.  
C  Mert, dedesine yardım etti.
- "balon" kelimesini oluşturan harflerin alfabetik sıralaması hangi seçenekte doğru verilmiştir?  
A  a-b-i-o-n  
B  a-i-b-o-n  
C  a-b-i-o-n
- Aşağıdaki kelimelerden hangisi hecelerine yanlış ayrılmıştır?  
A  ilk-o-ku  
B  u-çurt-ma  
C  kork-mak
- Aşağıdaki cümlelerin hangisinde tek bağna anlamı olmayan bir kelime vardır?  
A  Basketbol veya futbol oynayalım.  
B  Kırtasyeden kırmızı kalem aldım.  
C  Okula beraber gidelim.
- Aşağıdaki kelimelerden hangisinin anlamı farklıdır?  
A  fakir  
B  zengin  
C  yoksul
- Aşağıdaki cümlelerin hangisinde eş anlamlı kelimeler bir arada kullanılmıştır?  
A  Arkadaşlarım kıymetli hediyeler verdi, değerli sözler söyledi.  
B  Serinle acı tatlı günlerimiz oldu.  
C  Yaşlı adam yanımdaki gençce bir şeyler anlatıyordu.
- 7 yuzluk, 3 birlik ve 4 onluk olan doğal sayının onlar basamağındaki rakamın basamak değeri kaçtır?  
A  4  
B  30  
C  40
-   
A  Cem  
B  Tuana  
C  Sila
-   
A  1  
B  2  
C  3
-   
A  Emine  
B  Fatih  
C  Fatma
- '96-88-81-72-64-56-48' sayı örüntüsünde kuralı bozan sayı hangisidir?  
A  81  
B  72  
C  56

- "2A" doğal sayısı, 2 basamaklı tek doğal sayıdır. Buna göre A yerine aşağıdakilerden hangisi yazılmaz?  
A  5  
B  6  
C  7
-   
A  1  
B  2  
C  3
- Okuduğum kitabın sayfa sayısı, rakamın birlerinden farklı 3 basamaklı en küçük çift doğal sayı kadardır. İfadeye göre kitabın sayfa sayısı aşağıdakilerden hangisidir?  
A  100  
B  101  
C  102
- "VIII <.....< X" Noktalı yere aşağıdaki Romen rakamlarından hangisi yazılabilir?  
A  XI  
B  IX  
C  VI
-   
A  730  
B  376  
C  367
-   
A  Kara tabakası - Su tabakası - Hava tabakası  
B  Kara tabakası - Çekirdek tabakası - Hava tabakası  
C  Su tabakası - Hava tabakası - Manto tabakası
- Kara ve su tabakasının Dünya üzerindeki oranları hangisi seçenekte doğru verilmiştir?  
A  3/4'ü kara, 1/4'ü su  
B  3/4'ü su, 1/4'ü kara  
C  2/4'ü kara, 2/4'ü su
-   
A  Kara - Su - Hava  
B  Su - Kara - Hava  
C  Kara - Hava - Su
-   
A  3-1-4-2  
B  1-3-2-4  
C  3-1-2-4
- "Soğuk havada arabamın kornasını ipten Ayşe, hemen yolun kenarına çekildi." cümlesinde Ayşe, hangi duyu organını kullanmamıştır?  
A  Dil  
B  Deri  
C  Kulak
-   
A  Planlı çalışması  
C  İyi resim yapması  
B  Çok hızlı koşması
-   
A  Hızlı olduğu bir konuda onu uyarması  
B  Verdiği sözü tutması  
C  Eyaletlerin arkadaşlarını ile paylaşması
-   
A  Cem  
B  Tuana  
C  Sila
-   
A  Ali  
B  Elif  
C  Ahmet
- "Bir elin nesi var, iki elin sesi var." atasözümüz hangi güzel davranışı vurgulamaktadır?  
A  Tutumluluk  
B  Sorumluluk  
C  Yardımlaşma
-   
A  Öğretmene en yakın Süde oturur.  
B  Enes, Zeynep'in arkasında oturur.  
C  Arka sıradaki tek kız Melissa'dır.

wordwall.net/print/10816463/3-sinif-deneme-sinavi-7

### 3. SINIF DENEME SINAVI 7




Name:











- Aşağıda verilen bilgilerden hangisi yanlıştır?  
A  "Portakal" kelimesinde sekiz harf vardır.  
B  Alfabemizin 21. harfi "Y"dır  
C  Alfabemizin 15. harfinden sonra "n" harfi gelir.
- Afabemizedeki ünlü harf sayısı ünsüz harf sayısından kaç eksiktir?  
A  15  
B  14  
C  13
- Aşağıdaki kelimelerden hangisinin bütün ünlülerini incezi?  
A  felaket  
B  bilgelik  
C  atıştırılmak
- Aşağıdakilerden hangisinin içinde hem ince hem kalın ünlü vardır?  
A  pirasa  
B  zıyva  
C  domates
- Aşağıdaki cümlelerin hangisinde dört harfli ve tek heceli bir kelime vardır?  
A  Şule, çiçekleri suladı.  
B  Ali, uyumadan önce kitap okudu.  
C  Mert, dedesine yardım etti.
- "balon" kelimesini oluşturan harflerin alfabetik sıralaması hangi seçenekte doğru verilmiştir?  
A  a-b-i-o-n  
B  a-i-b-o-n  
C  a-b-i-o-n
- Aşağıdaki kelimelerden hangisi hecelerine yanlış ayrılmıştır?  
A  ilk-o-ku  
B  u-çurt-ma  
C  kork-mak
- Aşağıdaki cümlelerin hangisinde tek bağna anlamı olmayan bir kelime vardır?  
A  Basketbol veya futbol oynayalım.  
B  Kırtasyeden kırmızı kalem aldım.  
C  Okula beraber gidelim.
- Aşağıdaki kelimelerden hangisinin anlamı farklıdır?  
A  fakir  
B  zengin  
C  yoksul
- Aşağıdaki cümlelerin hangisinde eş anlamlı kelimeler bir arada kullanılmıştır?  
A  Arkadaşlarım kıymetli hediyeler verdi, değerli sözler söyledi.  
B  Serinle acı tatlı günlerimiz oldu.  
C  Yaşlı adam yanımdaki gençce bir şeyler anlatıyordu.
- 7 yuzluk, 3 birlik ve 4 onluk olan doğal sayının onlar basamağındaki rakamın basamak değeri kaçtır?  
A  4  
B  30  
C  40
-   
A  Cem  
B  Tuana  
C  Sila
-   
A  1  
B  2  
C  3
-   
A  Emine  
B  Fatih  
C  Fatma
- '96-88-81-72-64-56-48' sayı örüntüsünde kuralı bozan sayı hangisidir?  
A  81  
B  72  
C  56

wordwall.net/print/10816463/3-sinif-deneme-sinavi-7

### 3. SINIF DENEME SINAVI 7

Name:




- Aşağıda verilen bilgilerden hangisi yanlıştır?  
A  "Portakal" kelimesinde sekiz harf vardır.  
B  Alfabemizin 21. harfi "Y"dır  
C  Alfabemizin 15. harfinden sonra "n" harfi gelir.
- Afabemizedeki ünlü harf sayısı ünsüz harf sayısından kaç eksiktir?  
A  15  
B  14  
C  13
- Aşağıdaki kelimelerden hangisinin bütün ünlülerini incezi?  
A  felaket  
B  bilgelik  
C  atıştırılmak
- Aşağıdakilerden hangisinin içinde hem ince hem kalın ünlü vardır?  
A  pirasa  
B  zıyva  
C  domates
- Aşağıdaki cümlelerin hangisinde dört harfli ve tek heceli bir kelime vardır?  
A  Şule, çiçekleri suladı.  
B  Ali, uyumadan önce kitap okudu.  
C  Mert, dedesine yardım etti.
- "balon" kelimesini oluşturan harflerin alfabetik sıralaması hangi seçenekte doğru verilmiştir?  
A  a-b-i-o-n  
B  a-i-b-o-n  
C  a-b-i-o-n
- Aşağıdaki kelimelerden hangisi hecelerine yanlış ayrılmıştır?  
A  ilk-o-ku  
B  u-çurt-ma  
C  kork-mak
- Aşağıdaki cümlelerin hangisinde tek bağna anlamı olmayan bir kelime vardır?  
A  Basketbol veya futbol oynayalım.  
B  Kırtasyeden kırmızı kalem aldım.  
C  Okula beraber gidelim.
- Aşağıdaki kelimelerden hangisinin anlamı farklıdır?  
A  fakir  
B  zengin  
C  yoksul
- Aşağıdaki cümlelerin hangisinde eş anlamlı kelimeler bir arada kullanılmıştır?  
A  Arkadaşlarım kıymetli hediyeler verdi, değerli sözler söyledi.  
B  Serinle acı tatlı günlerimiz oldu.  
C  Yaşlı adam yanımdaki gençce bir şeyler anlatıyordu.
- 7 yuzluk, 3 birlik ve 4 onluk olan doğal sayının onlar basamağındaki rakamın basamak değeri kaçtır?  
A  4  
B  30  
C  40
-   
A  Cem  
B  Tuana  
C  Sila
-   
A  1  
B  2  
C  3
-   
A  Emine  
B  Fatih  
C  Fatma
- '96-88-81-72-64-56-48' sayı örüntüsünde kuralı bozan sayı hangisidir?  
A  81  
B  72  
C  56

- "2A" doğal sayısı, 2 basamaklı tek doğal sayıdır. Buna göre A yerine aşağıdakilerden hangisi yazılmaz?  
A  5  
B  6  
C  7
-   
A  1  
B  2  
C  3
- Okuduğum kitabın sayfa sayısı, rakamın birlerinden farklı 3 basamaklı en küçük çift doğal sayı kadardır. İfadeye göre kitabın sayfa sayısı aşağıdakilerden hangisidir?  
A  100  
B  101  
C  102
- "VIII <.....< X" Noktalı yere aşağıdaki Romen rakamlarından hangisi yazılabilir?  
A  XI  
B  IX  
C  VI
-   
A  730  
B  376  
C  367
-   
A  Kara tabakası - Su tabakası - Hava tabakası  
B  Kara tabakası - Çekirdek tabakası - Hava tabakası  
C  Su tabakası - Hava tabakası - Manto tabakası
- Kara ve su tabakasının Dünya üzerindeki oranları hangisi seçenekte doğru verilmiştir?  
A  3/4'ü kara, 1/4'ü su  
B  3/4'ü su, 1/4'ü kara  
C  2/4'ü kara, 2/4'ü su
-   
A  Kara - Su - Hava  
B  Su - Kara - Hava  
C  Kara - Hava - Su
-   
A  3-1-4-2  
B  1-3-2-4  
C  3-1-2-4
- "Soğuk havada arabamın kornasını ipten Ayşe, hemen yolun kenarına çekildi." cümlesinde Ayşe, hangi duyu organını kullanmamıştır?  
A  Dil  
B  Deri  
C  Kulak
-   
A  Planlı çalışması  
C  İyi resim yapması  
B  Çok hızlı koşması
-   
A  Hızlı olduğu bir konuda onu uyarması  
B  Verdiği sözü tutması  
C  Eyaletlerin arkadaşlarını ile paylaşması
-   
A  Cem  
B  Tuana  
C  Sila
-   
A  Ali  
B  Elif  
C  Ahmet
- "Bir elin nesi var, iki elin sesi var." atasözümüz hangi güzel davranışı vurgulamaktadır?  
A  Tutumluluk  
B  Sorumluluk  
C  Yardımlaşma
-   
A  Öğretmene en yakın Süde oturur.  
B  Enes, Zeynep'in arkasında oturur.  
C  Arka sıradaki tek kız Melissa'dır.

wordwall.net/print/10816463/3-sinif-deneme-sinavi-7

### 3. SINIF DENEME SINAVI 7

Name:

- Aşağıda verilen bilgilerden hangisi yanlıştır?  
A  "Portakal" kelimesinde sekiz harf vardır.  
B  Alfabemizin 21. harfi "Y"dır  
C  Alfabemizin 15. harfinden sonra "n" harfi gelir.
- Afabemizedeki ünlü harf sayısı ünsüz harf sayısından kaç eksiktir?  
A  15  
B  14  
C  13
- Aşağıdaki kelimelerden hangisinin bütün ünlülerini incezi?  
A  felaket  
B  bilgelik  
C  atıştırılmak
- Aşağıdakilerden hangisinin içinde hem ince hem kalın ünlü vardır?  
A  pirasa  
B  zıyva  
C  domates
- Aşağıdaki cümlelerin hangisinde dört harfli ve tek heceli bir kelime vardır?  
A  Şule, çiçekleri suladı.  
B  Ali, uyumadan önce kitap okudu.  
C  Mert, dedesine yardım etti.
- "balon" kelimesini oluşturan harflerin alfabetik sıralaması hangi seçenekte doğru verilmiştir?  
A  a-b-i-o-n  
B  a-i-b-o-n  
C  a-b-i-o-n
- Aşağıdaki kelimelerden hangisi hecelerine yanlış ayrılmıştır?  
A  ilk-o-ku  
B  u-çurt-ma  
C  kork-mak
- Aşağıdaki cümlelerin hangisinde tek bağna anlamı olmayan bir kelime vardır?  
A  Basketbol veya futbol oynayalım.  
B  Kırtasyeden kırmızı kalem aldım.  
C  Okula beraber gidelim.
- Aşağıdaki kelimelerden hangisinin anlamı farklıdır?  
A  fakir  
B  zengin  
C  yoksul
- Aşağıdaki cümlelerin hangisinde eş anlamlı kelimeler bir arada kullanılmıştır?  
A  Arkadaşlarım kıymetli hediyeler verdi, değerli sözler söyledi.  
B  Serinle acı tatlı günlerimiz oldu.  
C  Yaşlı adam yanımdaki gençce bir şeyler anlatıyordu.
- 7 yuzluk, 3 birlik ve 4 onluk olan doğal sayının onlar basamağındaki rakamın basamak değeri kaçtır?  
A  4  
B  30  
C  40
-   
A  Cem  
B  Tuana  
C  Sila
-   
A  1  
B  2  
C  3
-   
A  Emine  
B  Fatih  
C  Fatma
- '96-88-81-72-64-56-48' sayı örüntüsünde kuralı bozan sayı hangisidir?  
A  81  
B  72  
C  56

wordwall.net/print/10816463/3-sinif-deneme-sinavi-7